

TÜRKÇE

Doğada her canlının önemli bir yeri var. Ama arıların yeri bambaşka. Bu eşsiz canlılar pek çok bitkinin çoğalmasına yani meyve, tohum vermesine yardım ediyor.

Arılar günlerinin önemli bir bölümünü bal özü ve çiçek tozu toplayarak geçirir. Bu sırada üzerlerine bulaşan çiçek tozlarını da çiçekten çiçeğe taşıyan arılar bitkilerin tozlaşmasına önemli bir katkıda bulunur. Böylece bitkilerin meyve vermesini sağlayan tozlaşma olayıyla meyvelerin içindeki tohumlardan yeni bitkiler gelişebilir. Uzun sözü kısası arılar kendileri için bal özü ve çiçek özü toplarken bir yandan da bitkilerin çoğalmasına yardım eder.

1-Metnin konusunu yazınız. (5 P)

Arıların bitkilerin çoğalmasındaki rolü.

2-Metnin ana fikrini yazınız. (5 P)

Arılar bal toplarken bitkilerin çoğalmasına yardım ettiklerinden ayrıca önemlidirler.

3-Aşağıda anlamları verilen kelimeleri metinden bulup karşılıklarına yazınız. (10 P)

a) Kendi kuralları çerçevesinde sürekli gelişen, değişen canlı ve cansız varlıkların hepsi: **Doğa**

b) Eşi benzeri olmayan veya eşi benzeri görülmemiş olan, bulunmaz: **Eşsiz**

c) Bulunduğu yere kök vb. organlarıyla tutulan, çoğunlukla fotosentez sonucu yaşam için gerekli bileşenleri oluşturan, birçoğu spor veya tohum aracılığıyla çoğalan bir veya çok yıllık, otsu, odunsu canlıların genel adı, nebat: **Bitki**

d) Yaşamakta olan, yaşayan, diri: **Canlı**

e) Bir düşünceyi eksiksiz olarak anlatan kelime dizisi: **Söz**

Ökkeş sürüsünü önüne kattı. Çamlıbel'in eteğinde sürüyü her zaman getirdiği otlığa getirdi. Kavalını çıkarıp dertli dertli üflemeğe başladı. Sadece koyunları, kuzuları değil; bütün bir tabiat Ökkeş'in kavalını dinliyordu.

4-Yukarıdaki metnin hikâye unsurlarını belirtiniz. (10 P)

Kişi: Ökkeş ve sürüsü

Yer: Çamlıbel'in eteğinde bir otlak

Zaman: Metinde verilmemiştir.

Olay: Ökkeş'in sürüsünü otlatması ve kaval çalmasıdır.

5-Aşağıdaki cümlelerde geçen altı çizili sözcüklerin aldıkları çekim eklerinin isimlerini altlarına yazınız. (10 P)

a) Masayı ıvır zıvırlarla doldurmuştu. **Belirtme hal eki**

b) Kırlangıçlar usul usul havalandılar gökyüzüne. **Çoğul eki**

c) Çantasını alıp kapıya doğru ilerledi. **Yönelme hal eki**

d) Beklediğimiz haber köyden henüz gelmedi. **Ayrılma hal eki**

e) Yeni eviniz hayırlı uğurlu olsun. **İyelik eki (2. Çoğul şahıs)**

6- Aşağıdaki cümlelerin öznel anlatımdan mı nesnel anlatımdan mı oluştuklarını karşılıklarına yazınız. (10 P)

Hava bugün çok güzel görünüyor. **(Öznel)**

Yarın pikniğe gideceğiz. **(Nesnel)**

Senin gözlerini çok beğeniyorum. **(Öznel)**

Her yıl binlerce insan çeşitli nedenlerle göç etmektedir. **(Nesnel)**

Evi üç oda bir salondan oluşuyormuş. **(Nesnel)**

Öğretmen seni yanına çağırıyor. **(Nesnel)**

Bahçeli bir evde yaşamak, çocuk için en büyük mutluluktur. **(Öznel)**

Türkiye'nin en kalabalık şehri Konya'dır. **(Nesnel)**

Yeni aldıkları araba kırmızı renkliymiş. **(Nesnel)**

Kitap oldukça sürükleyiciydi. **(Öznel)**

7-Aşağıda yer alan cümlelerin çeşidini belirtiniz. (Neden-sonuç, amaç-sonuç, koşul-sonuç) (10 P)

Heykellerin dili olmadığı için hep soğukturlar. **Neden-sonuç**

Yabancı dil öğrenmek için kursa gidiyor. **Amaç-sonuç**

Haftaya ödenmek üzere sana borç verebilirim. **Koşul-sonuç**

Kızılıcak şerbeti almak üzere Mısır Çarşısı'na uğradım. **Amaç-sonuç**

Müzik dinleyebilirsin ama ödevini bitirdikten sonra. **Koşul-sonuç**

8-Aşağıdaki dörtlüklerde geçen söz sanatlarını sebepleriyle birlikte karşlarına yazınız. (10 P)

Senin gözlerinden öyle acı

Bir ışık geçer ki bazen...

Melek mi, şeytan mı belli olmaz,

Bakar pusulalarda uzaktan.

(Cahit KÜLEBİ)

Melek ve şeytan bir arada kullanılarak tezat sanatına başvurulmuştur.

Bir duvar saatiyim ben,

Çoktan durmuş...

Akrebiyle yelkovanı arasına

Örümcekler yuva kurmuş!

(Arif Nihat ASYA)

Şiir duvar saatinin ağzından yazılmıştır dolayısıyla konuşurma sanatına başvurulmuştur.

9-Aşağıdak geçiş ve bağlantı ifadeleriyle uygun cümleler kurunuz. (10P)

Üstelik:

Halbuki:

Hatta:

Ancak:

Fakat:

10- "Anı" türünün özelliklerine dikkat ederek bir anınızı yazınız. (Başlık koymayı; serim, düğüm, çözüm bölümlerini unutmayınız.) (20 P)

SOSYAL BİLGİLER

1. Evdeki sorumluluklarımıza örnek veriniz.

Odamızı temiz ve düzenli tutmak

Ailemize ev işlerinde yardım etmek

Ailedeki rollerimize uygun davranmak

2. Bir toplumu diğer toplumlardan ayıran ve kuşaktan kuşağa aktarılan, o topluma ait hayat tarzıdır.

Bir toplumu diğer toplumlardan ayıran ve kuşaktan kuşağa aktaran hayat tarzına **Milli kültür** denir.

3. Bir grubun bütün üyelerine yönelik abartılan genelleştirilen olumlu veya

olumsuz değerlendirmelere ne denir?

Bir grubun bütün üyelerine yönelik abartılan ve genelleştiren değerlendirmelere **Kalıp yargı** denir.

4. Bir kimse ya da bir olayla ilgili yeterli bilgi edinilmeden geliştirilen tutuma ne

denir.

Bir kimse ya da olayla ilgili yeterli bilgi edinilmeden geliştirilen tutuma **Önyargı** denir.

5. Önyargılara örnek veriniz.

Eminim ki bu sınavdan kötü not alacak.

Kupayı kesin bizim takım alacak.

Ahmet bu işi asla beceremez.

6.Sivil Toplum Kuruluşlarına örnek veriniz.

Sivil Toplum örgütlerinin bazıları şunlardır:Türk Eğitim Vakfı (TEV), Kızılay, Darülaceze,

Mehmetçik Vakfı, Sosyal Yardımlaşma ve

Dayanışma Vakfı

7. Vatandaşların kendileriyle veya kamu ile ilgili dilek ve şikâyetlerini yetkili makamlara yazı ile başvurma hakkıdır.

Vatandaşların kendileri veya kamu ile ilgili dilek ve şikayetlerini yetkili makamlara yazı ile başvurma hakkına **Dilekçe hakkı** denir.

8.Temel haklarımıza örnek veriniz.

Temel haklarımızın bazıları şunlardır:Yaşama hakkı, eğitim hakkı, sağlık hakkı, çalışma hakkı, yaşama hakkı, seçme ve seçilme hakkı, dilekçe hakkı

9. Geçmişte genellikle cami etrafında bulunan ve üzerinde para koyabilecek bir oyuğu bulunan yerlere ne denir.

Geçmişte genellikle cami etrafında bulunan ve üzerinde para koyulabilecek bir oyuğu bulunan yerlere **Sadaka taşı** denir.

10. Bir topluluğu oluşturan bireylerin duygu düşünce ve ortak amaçlarda birleşmesine ve birbirine bağlanmasına ne denir?

Bir toplumun bir problemde birleşmesine **Dayanışma** denir.

MATEMATİK

1) 9^2 sayısının değerini hesaplayınız.

$$9^2 = 9 \cdot 9 = 81$$

2) $4^2 + 20 : 4 - 6$ işleminin sonucunu bulunuz.

$$16 + 5 - 6 = 21 - 6 = 15$$

3) $15 \times (24 - A) = 15 \times B - 15 \times 10$ işleminde A ve B yerine hangi sayılar gelmelidir?

Dağılıma özelliğinden $A = 10$ ve $B = 24$ olur.

4) $48 \times 24 + 48 \times 76$ işlemini sayıları ortak çarpan parantezine alarak yapınız.

48 sayısı ortak çarpan olduğundan $48 \times 24 + 48 \times 76 = 48 (24 + 76) = 48 \times 100 = 4800$ olur.

5) Bir sınıftaki erkek öğrenci sayısı kız öğrenci sayısından 6 fazladır. Sınıf mevcudu 28 ise bu sınıfta kaç kız öğrenci vardır?

$$\text{Kız} : 1 \text{ kat} \quad \text{Erkek} : 1 \text{ kat} + 6, \quad \text{Toplam} \quad 2 \text{ kat} + 6 = 28$$

$$2 \text{ kat} = 22,$$

$$1 \text{ kat} = 11 \text{ olur. Kız öğrenci sayısı } 11 \text{ 'dir.}$$

6) 40 sayısının çarpanlarını yazınız.

$$1, 2, 4, 5, 8, 10, 20, 40$$

7) 3 basamaklı **47A** sayısı 3'e tam bölünüyorsa A rakamı hangi değerleri alabilir?

3'e bölünebilmesi için sayının rakamları toplamı 3'ün katı olmalıdır.

$4 + 7 + A = 11 + A$ sayısının 3'ün katı olması gerekir. 12, 15 ya da 18 olabilir.

Bunun için A yerine 1, 4, 7 gelebilir.

8) 324, 415, 537, 200, 348, 563 sayılarından hangileri 4'e kalansız bölünebilir?

4'e bölünebilmesi için sayının son iki basamağı 4'ün katı veya 00 olmalıdır. 324, 200, 348 tam bölünür.

9) B7 sayısı iki basamaklı bir asal sayı ise B yerine hangi rakamlar yazılabilir?

17, 37, 47, 67, 97 asal sayıdır. B yerine 1, 3, 4, 6, 9 gelebilir.

10) 60'ın asal çarpanlarını bulunuz.

60'ın asal çarpanları 2, 3 ve 5'tir.

60	2
30	2
15	3
5	5
1	

FEN BİLİMLERİ

1) Güneş sistemindeki gezegenleri Güneş'e yakınlık sıralamasına göre yazınız.

-Merkür, Venüs, Dünya, Mars, Jüpiter, Satürn, Uranüs, Neptün

2) Güneş sistemindeki gezegenler ile ilgili;

a) Belirgin halkalara sahip olan gezegen hangisidir?

- Satürn

b) İç gezegenler hangileridir?

- Merkür, Venüs, Dünya, Mars

3)



Yukarıdaki görsele göre;

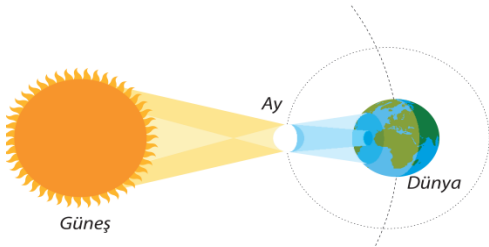
a) 2 gezegen arasında yoğun bir şekilde bulunan kaya ve metal parçalarından oluşan topluluğun adı nedir?

- Asteroit Kuşağı

b) Hangi gezegenler arasındadır?

- Mars - Jüpiter

4)



Yukarıdaki görsele göre;

a) Hangi doğa olayına aittir?

- Güneş Tutulması

b) Bu olay sırasında Ay hangi evdedir?

- Yeni Ay

5) Güneş ve Ay tutulmalarının ortak özellikleri nelerdir?

- Güneş, Dünya ve Ay aynı doğrultuda olmalıdır.

- Işığın doğrusal yolla yayıldığını kanıtlar.
- Gölge olayıdır.
- Belirli aralıklarla gerçekleşen doğa olaylarıdır.

6) İskeletin görevleri nelerdir?

- Vücudumuza şekil ve diklik verir.
- İç organlara tutunma yüzeyi sağlar.
- Hayati öneme sahip iç organları korur.
- Kalsiyum, Magnezyum gibi mineralleri depolar.
- Bazı kan hücrelerini üretir.

7) Bebeklerde kırkırdak sayısının kemiklerden fazla olmasının nedeni nedir?

Büyüme gerçekleşirken bazı kemikler birbirine kaynar ve kemik sayısı azalır.

8) Vücudumuzda kemikleşmeden kırkırdak kalan yapı ya da organlar nelerdir?

- Burun ucu
- Kulak kepçesi
- Soluk borusu
- Kemiklerin uç kısımları

9) Aşağıdaki görsellerin altına hangi kas çeşidine ait olduklarını yazınız.



Çizgili Kas



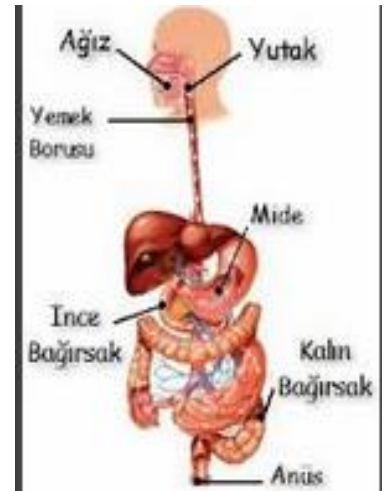
Kalp Kası



Düz Kas

10) Yandaki resme göre alttaki soruları yanıtlayınız.

- Hangi sisteme aittir?
 - Sindirim sistemi
- Mekanik sindirim nerede başlar?
 - Ağız
- Kimyasal sindirim için ne gerekir?
 - Salgı- enzim
- Hangi yapılar proteini kimyasal olarak sindirir?
 - Mide, ince bağırsak



DİN KÜLTÜRÜ VE AHLAK BİLGİSİ

1. Peygamberlerin özellikleri nelerdir?

- Tebliğ
- İsmet
- Fetamet
- Sıdk
- Emanet

2. Peygamberlerin görevleri nelerdir?

Tebliğ

Beyan

Davet

3. Peygamber, resul, nebi kavramlarını açıklayınız.

Peygamber: Elçi, haber getiren

Resul: Kendisine ilahi kitap verilen peygamber

Nebi: Kendisine ilahi kitap verilmeyen peygamber

4. İlahi kitaplarla peygamberleri eşleştiriniz.

Tevrat – Hz. Musu

İncil – Hz. İsa

Zebur – Hz. Davud

Kuran- Hz. Muhammed

5. Vahiy nedir ve gönderiliş amacı nelerdir?

Buyruk veya düşüncelerin Allah tarafından peygamberlere bildirilmesine veya bu bildirinin kendisine denir.



İnsanlara doğru yolu göstermek,

Allah a imana çağırmak,

İnsanları her iki alemde de mutlu kılmak

İNGİLİZCE

A) Tell the times. (5x3=15 points)



11:50

13:20

B) Write the activities under the pictures. (5x2=10 points)



1.....

2.....

3.....

4.....

5.....

C) Complete the sentences with the correct words. (10x2=20 points)

1. I _____ early every morning.

2. Meltem _____ TV every evening.

3. They _____ their homework.

4. Nil and Aynur _____ tennis on Sundays.

5. _____ you have breakfast every day?

6. He _____ breakfast at 08.00.

7. My cat _____ milk everyday.

8. We _____ have lunch at 12.30

9. _____ Emre play computer game?

10. She _____ early every evening.

D) Write the dates in English. (6x3=18 points)

1) 29/10/1923 _____

2) 23/04/1920 _____

3) 30/08/1922 _____

4) 15/07/2016 _____

5) 19/05/1919 _____

6) 29/05/1453 _____

E) Answer the questions. (7x3=21 points)

1. What do you do after school?
2. What time does your father go to work?
3. When do you visit your grandparents?
4. What time do you get up on weekdays?
5. How often does your mother read a book?
6. What do you do at weekends?
7. How often do you brush your teeth?

F) Listen to the text and fill in the blanks. (8x2=16 points)

Hello everyone. I'm Jack from England. I'm eleven years old. This is my weekly routines. I get up at _____ on weekdays. I wash my face and have breakfast at half past seven. Then, I brush my teeth and _____. I leave home for school at _____ and get on the school bus. My classes start at 9 o'clock and finish at 3 p.m. I _____ after-school activities on Monday, Wednesdays and Fridays. In the _____, I have dinner with my family at 7 p.m. and _____ with them. I do my homework after dinner and go to bed at half past nine pm on weekdays. I don't get up early at _____. I have a big breakfast with my family at 11 a.m. Then, I go to swimming course at 2 p.m. I meet my friends _____ and go to the cinema with them.

Answer key**A) It is quarter past two.****It is half past five.****It is ten to nine****It is ten to eleven****It is twenty past one**

B) visit grandparents

Take folk dance course

Take a shower

Wake up

Listen to music

C) wake up

Watches

Do

Play

Do

Has

Drinks

Have

Does

Wakes up

D) twenty nine octeber nineteen twentythree

Twentythree April nineteentwenty

Thirty August nineteentwenty

Fifteen July twentysixteen

Nineteen may nineteennineteen

Twentynine may fourteenfiftythree

E) I do homework

At 8 o'clock

On Sundays

At 7 o'clock

Everyday

We go to picnic.

Everyday

F) seven

6.SINIF

OSMANGAZİ ORTAOKULU

ÖRNEK SORULAR

Wash my face

8 o'clock

Do

Evenings

Wacth tv

weekends